

①





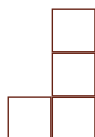
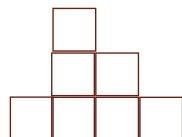

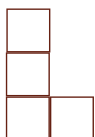
?



②



?



机の上にある積み木を4匹の動物から見ると、それぞれのように見えます。
 机の積み木はどんな形ですか?下からえらんで○をつけましょう。

まなびん

