



①





--	--	--	--	--	--	--	--	--	--

③







--	--	--	--	--	--	--	--	--	--

②



--	--	--	--	--	--	--	--	--	--

④



--	--	--	--	--	--	--	--	--	--

①～④について、サイコロの出た目の数の合計だけ動物が左から進みます。
止まったところに○をつけましょう。

