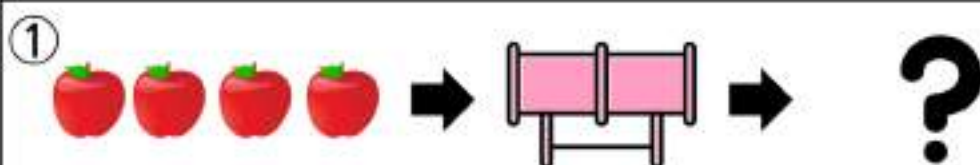
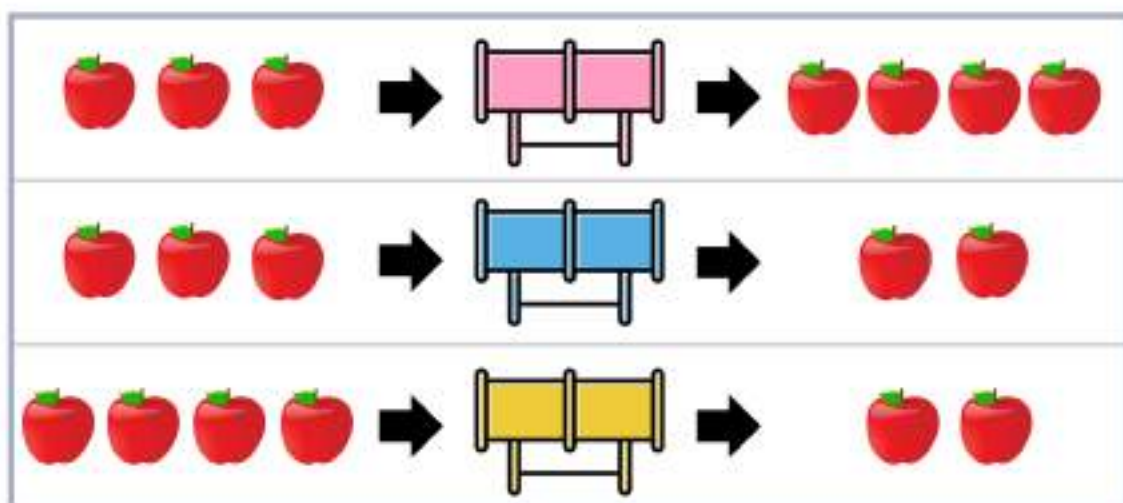
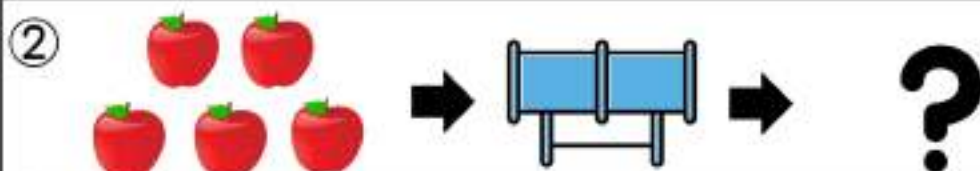


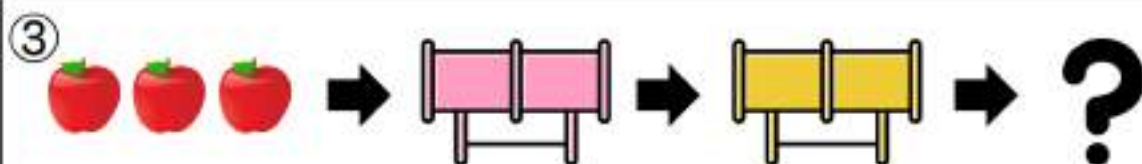
# 【数の増減】



--	--	--	--	--	--	--	--	--	--



--	--	--	--	--	--	--	--	--	--




--	--	--	--	--	--	--	--	--	--




# 【条件迷路】


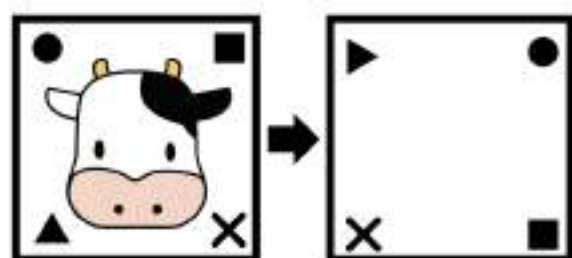
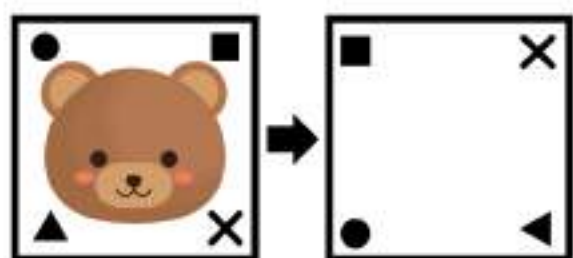

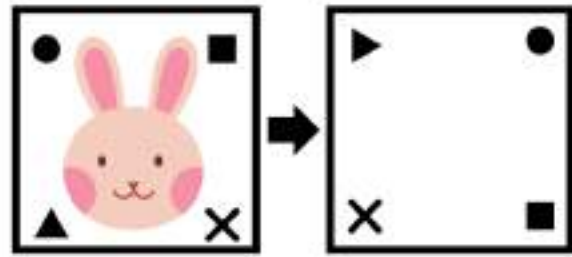
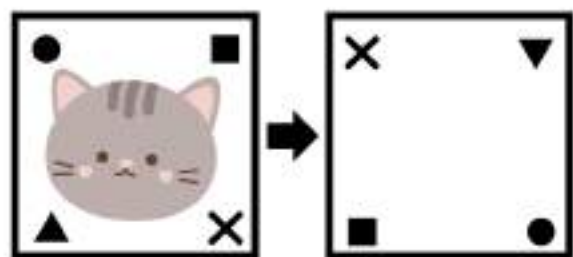
①



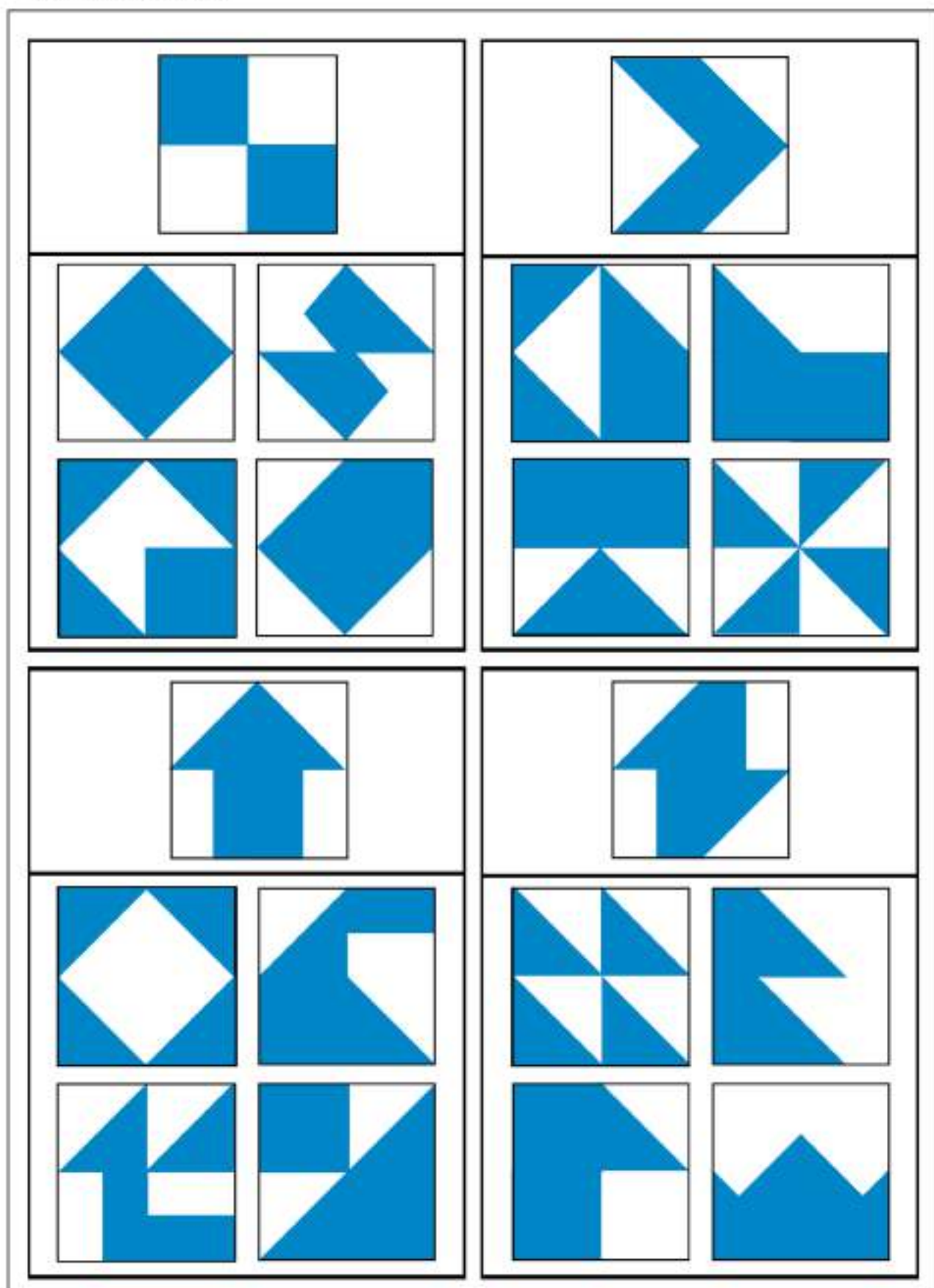
②



【回転図形】



# 【パズル合成】





## ペーパーテスト

鉛筆を使います。

はじめに自分の名前を書きます。

- 【数の増減】 トンネルをくぐると数が変わって、リンゴが出てきました。下の数のリンゴがそれぞれのトンネルをくぐると何個になって出てきますか。その数だけ○を書きましょう。
- 【条件迷路】 家からおばあちゃんの家まで、矢印の指示通りに進みます。途中で何匹の犬と会いましたか。下から選んで、○をつけましょう。
- 【図形回転】 左の絵が右の絵のように回転します。動物の顔の向きはどのようになりますか。下から選んで○をつけましょう。
- 【パズル合成】 上の絵は4枚のパズルでできています。同じパズルを使って、違う形を作ります。どの形ができますか。下から選んで、○をつけましょう。

## 【解答】

<p>【数の増減】</p> <p>① 5リンゴ → 5トンネル → ?</p> <p>② 5リンゴ → 4トンネル → ?</p> <p>③ 5リンゴ → 5トンネル → 5トンネル → ?</p>	<p>【条件迷路】</p> <p>① 家 → おばあちゃんの家まで、5匹の犬と会いました。</p> <p>② 家 → おばあちゃんの家まで、4匹の犬と会いました。</p>
<p>【図形回転】</p> <p>① 猫の顔の向きはどのようになりますか。</p> <p>② 兎の顔の向きはどのようになりますか。</p> <p>③ 熊の顔の向きはどのようになりますか。</p> <p>④ 牛の顔の向きはどのようになりますか。</p>	<p>【パズル合成】</p> <p>上の絵は4枚のパズルでできています。同じパズルを使って、違う形を作ります。どの形ができますか。</p>

