



## 【見る記憶】

記憶用




解答用




【模写】


①



②



# 【しりとり】





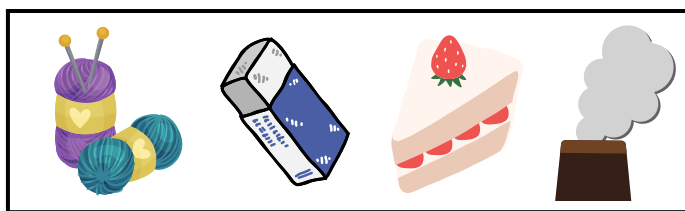

?

?

?

?

?



【鏡】

①




②


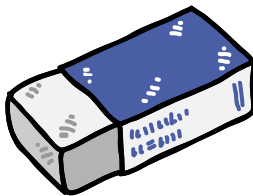





## 【話の聞き取り】

①

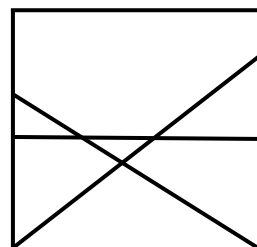
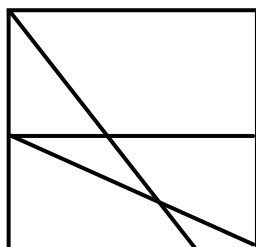
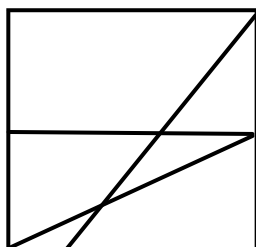
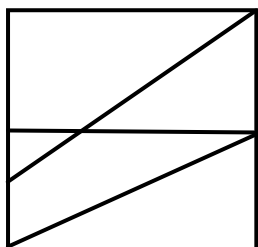
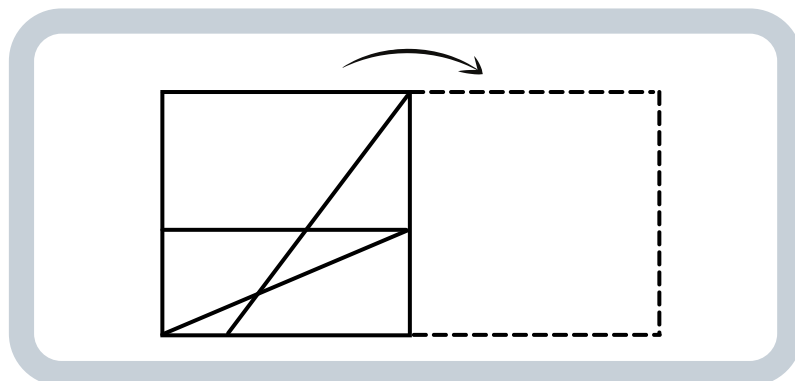


②

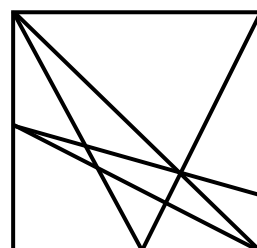
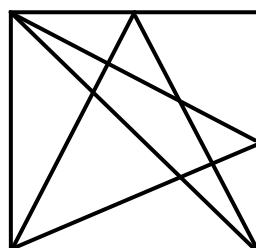
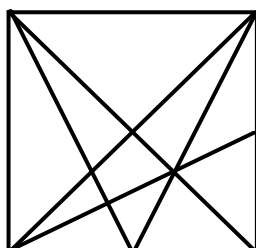
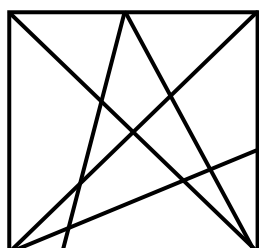
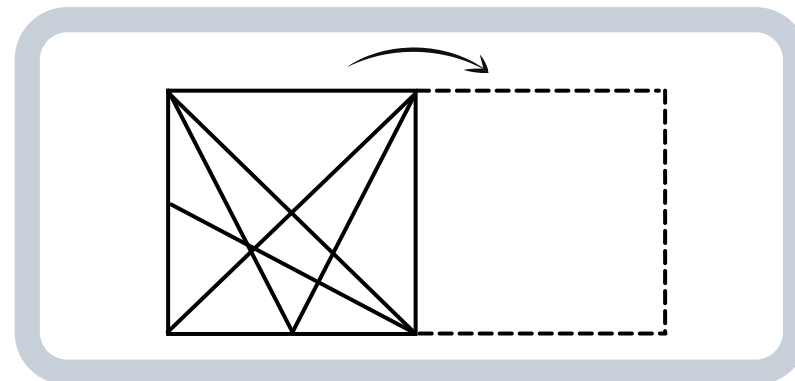


【図形】

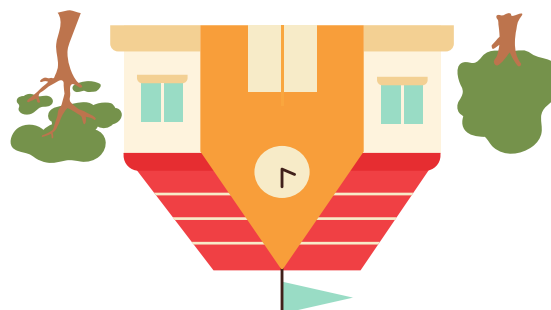
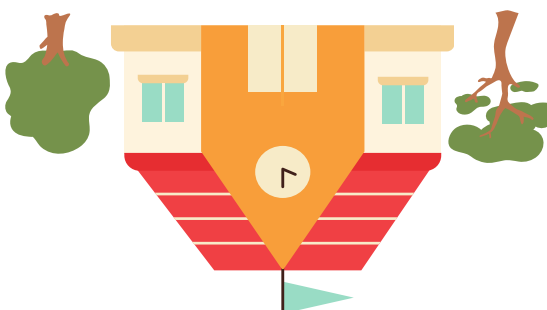
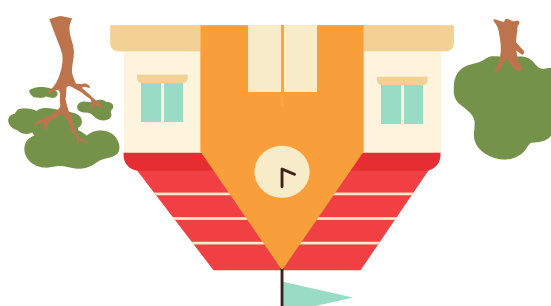
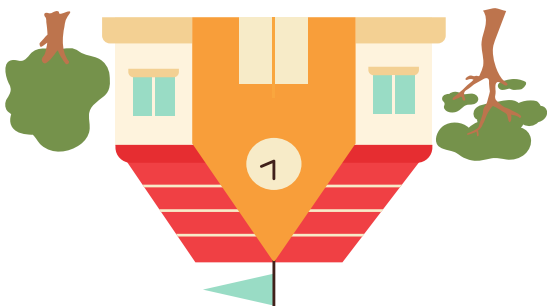
①



②

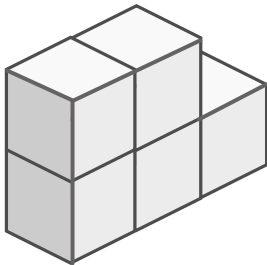


## 【水面】

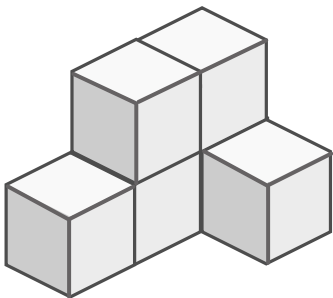


# 【積木】

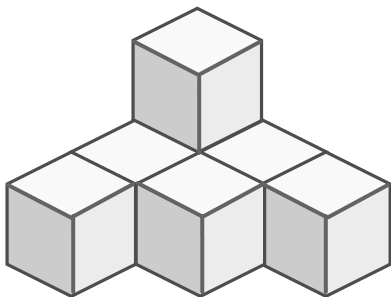
①




②



③



④

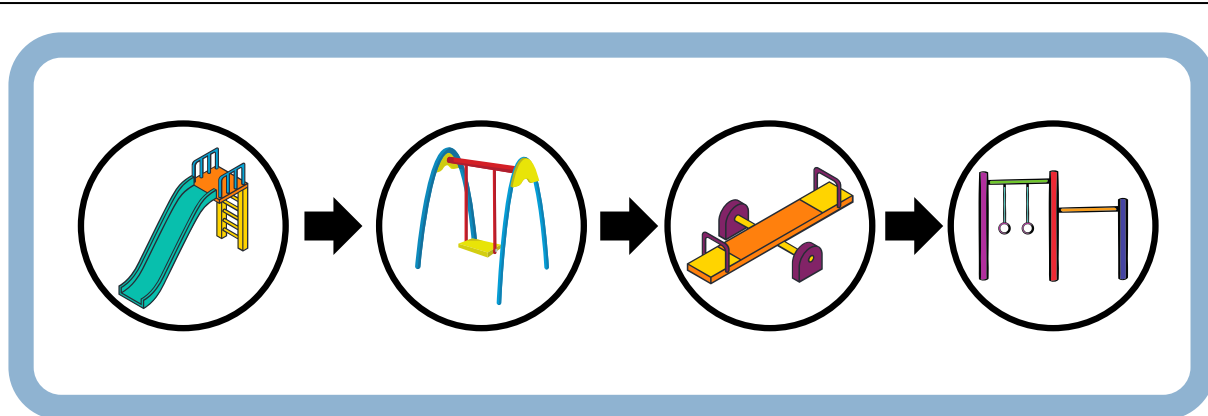


|  |  |  |  |  |
|--|--|--|--|--|
|  |  |  |  |  |
|  |  |  |  |  |
|  |  |  |  |  |
|  |  |  |  |  |
|  |  |  |  |  |
|  |  |  |  |  |
|  |  |  |  |  |
|  |  |  |  |  |
|  |  |  |  |  |
|  |  |  |  |  |






# 【指示迷路】



スタート




ゴール




# 【季節】



①



②



③




④






# 【重さ比べ】

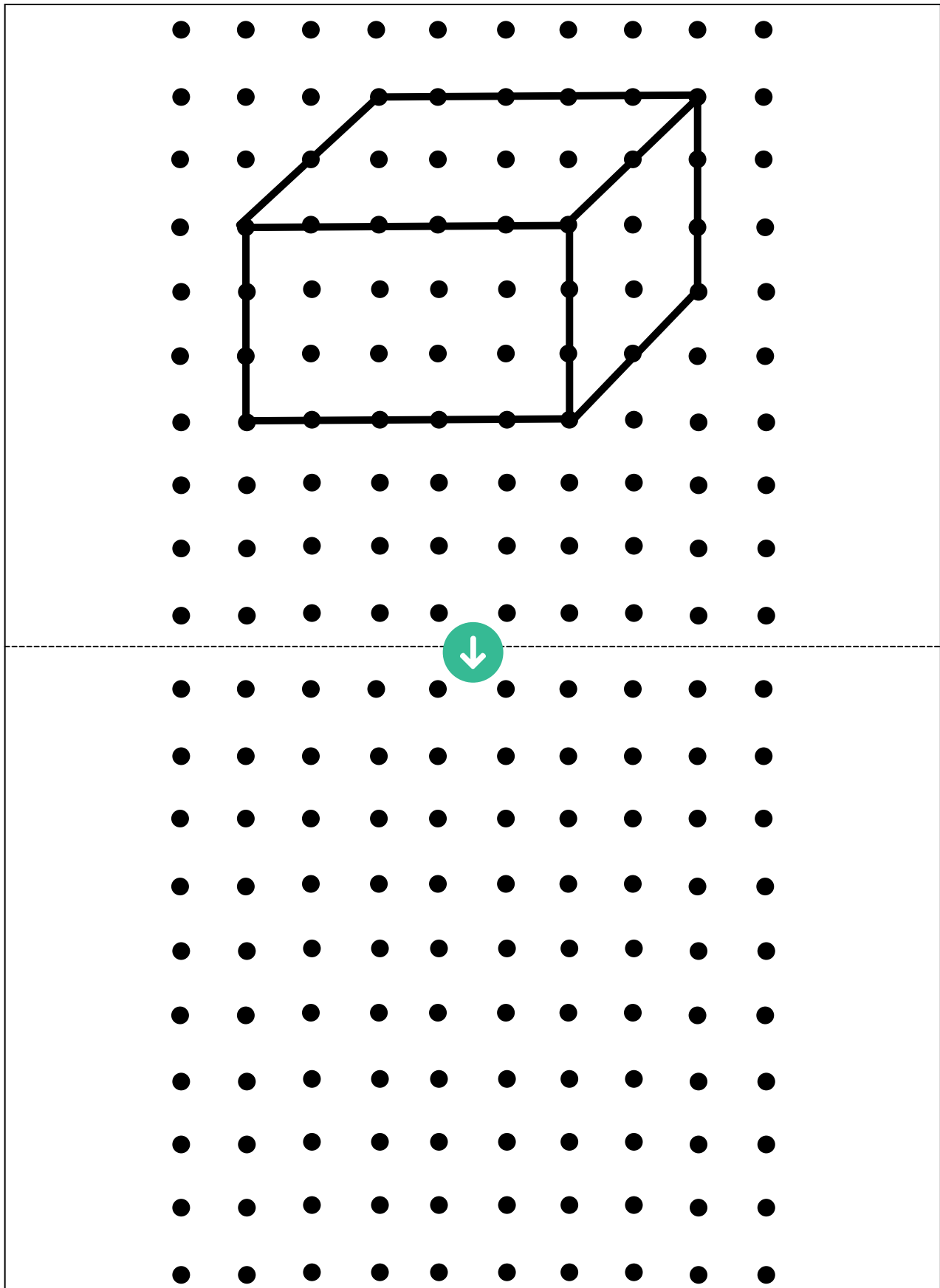
①



②



# 【点図形】



## ペーパーテスト

鉛筆を使います。

間違えた場合は、消しゴムで消します。

- 【見る記憶】 だれが何を食べましたか。線で結びましょう。
- 【模写】 たての線のところで折った絵があります。開くとどのような形になりますか。線の反対側に書きましょう。
- 【しりとり】 ウシからカニまでしりとりをします。？には何がはいりますか。右の4つの中から選んで○をつけましょう。
- 【鏡】 鏡の前に女の子がいます。鏡に女の子はどのように映りますか。4つの中から選んで○をつけましょう。
- 【話の聞き取り】 今日は、あかねちゃんのおばあちゃんのお誕生日です。  
あかねちゃんは、お父さんとお母さんと一緒におばあちゃんの家へ行き、お祝いをするようになりました。  
まず、あかねちゃんの家近くにある図書館に行き、借りていた本を返しました。  
次に、お花屋さんで大きな花束を買いました。その次に、ケーキ屋さんでおばあちゃんの好きなチョコレートケーキを買いました。花束とケーキを持って、おばあちゃんの家に着きました。  
おばあちゃんは「ありがとう！」と、とても喜んでくれました。あかねちゃんはおばあちゃんとケーキを食べながらたくさんおしゃべりをしました。  
夕方になったので、そろそろお家へ帰ることにしました。  
帰りに文房具屋さんで、消しゴムとノートとものさしを買ってもらいました。
- 《 問題 》
- ①あかねちゃんが最初に行った場所に○、最後に行った場所に△をつけましょう。  
②文房具屋さんで買ってもらったものは何ですか。○をつけましょう。
- 【図形】 例のように透明な紙に書かれた形があります。矢印の方向に裏返すとどのような形になりますか。4つの中から選んで○をつけましょう。
- 【水面】 学校が水たまりに映っています。どのように映りますか。4つの中から選び○をつけましょう。
- 【積木】 積木はいくつありますか。積木の数だけ、○を書きましょう。
- 【指示迷路】 すべり台⇒ブランコ⇒シーソー⇒鉄棒の順番で進み、ゴールまで線を引きましょう。同じマスは通れません。斜めには進めません。
- 【季節】 左の絵と同じ季節のものに○をつけましょう。
- 【重さ比べ】 3つのもので重さ比べをしました。一番重いものに○をつけましょう。
- 【点図形】 上の形と同じように、下に書きましょう。



# 【解答】

|   |  |  |
|---|--|--|
| <p>【見る記憶】</p> <p>記憶用</p>  <p>解答用</p>    | <p>【模写】</p> <p>①</p>  <p>②</p>   | <p>【しりとり】</p>   |
| <p>【鏡】</p> <p>①</p>  <p>②</p>    | <p>【話の聞き取り】</p> <p>①</p>  <p>②</p>    | <p>【図形】</p> <p>①</p>  <p>②</p>  |
| <p>【水面】</p>    | <p>【積み木】</p> <p>①</p>  <p>②</p>  <p>③</p>  <p>④</p>  | <p>【指示迷路】</p>   |
| <p>【季節】</p> <p>①</p>  <p>②</p>  <p>③</p>  <p>④</p>  | <p>【重さ比べ】</p> <p>①</p>  <p>②</p>   | <p>【点図形】</p>    |

