



【言語】

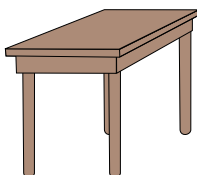
①



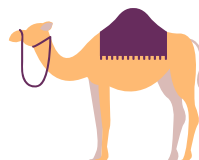
②






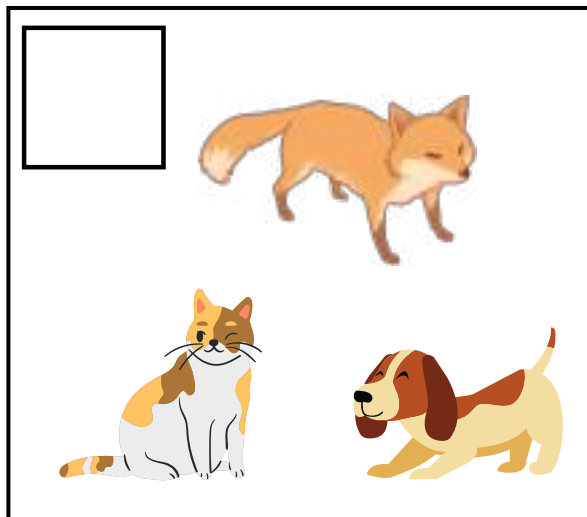


③



④



# 【しりとり】



# 【季節】

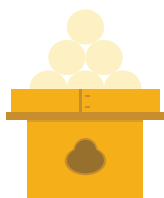
①



②



③





④



## 【聞き取り 1】




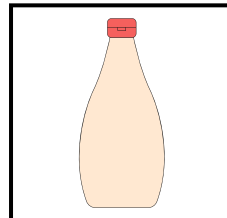



①



②



## 【常識】





## 【聞き取り 2】



## 【話の記憶】

①



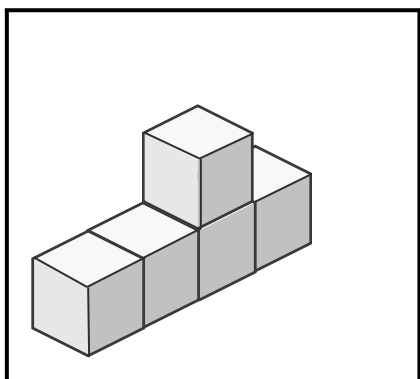
②




③



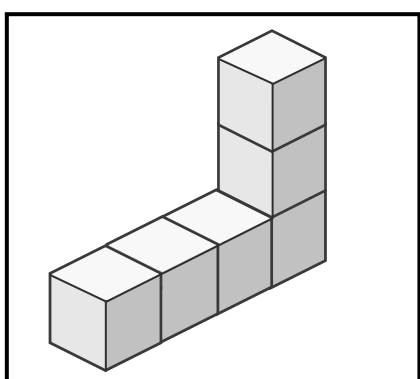
# 【数】




●



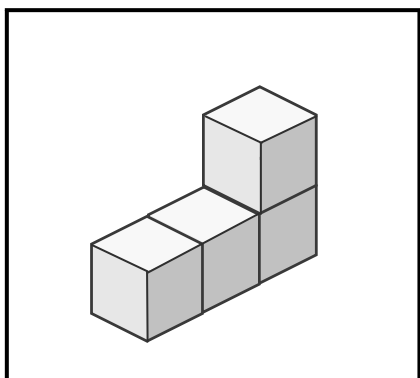
●




●



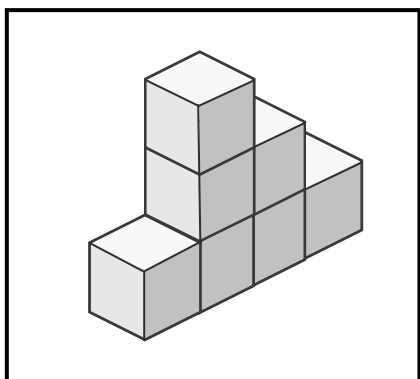
●




●



●



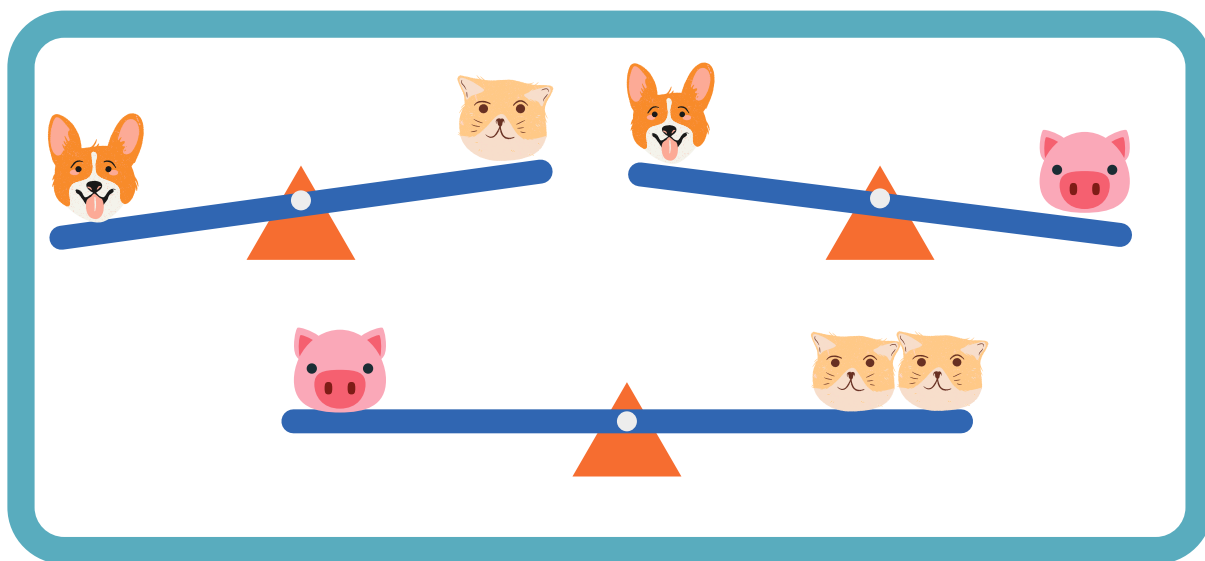
●




●





# 【重さ比べ】




①



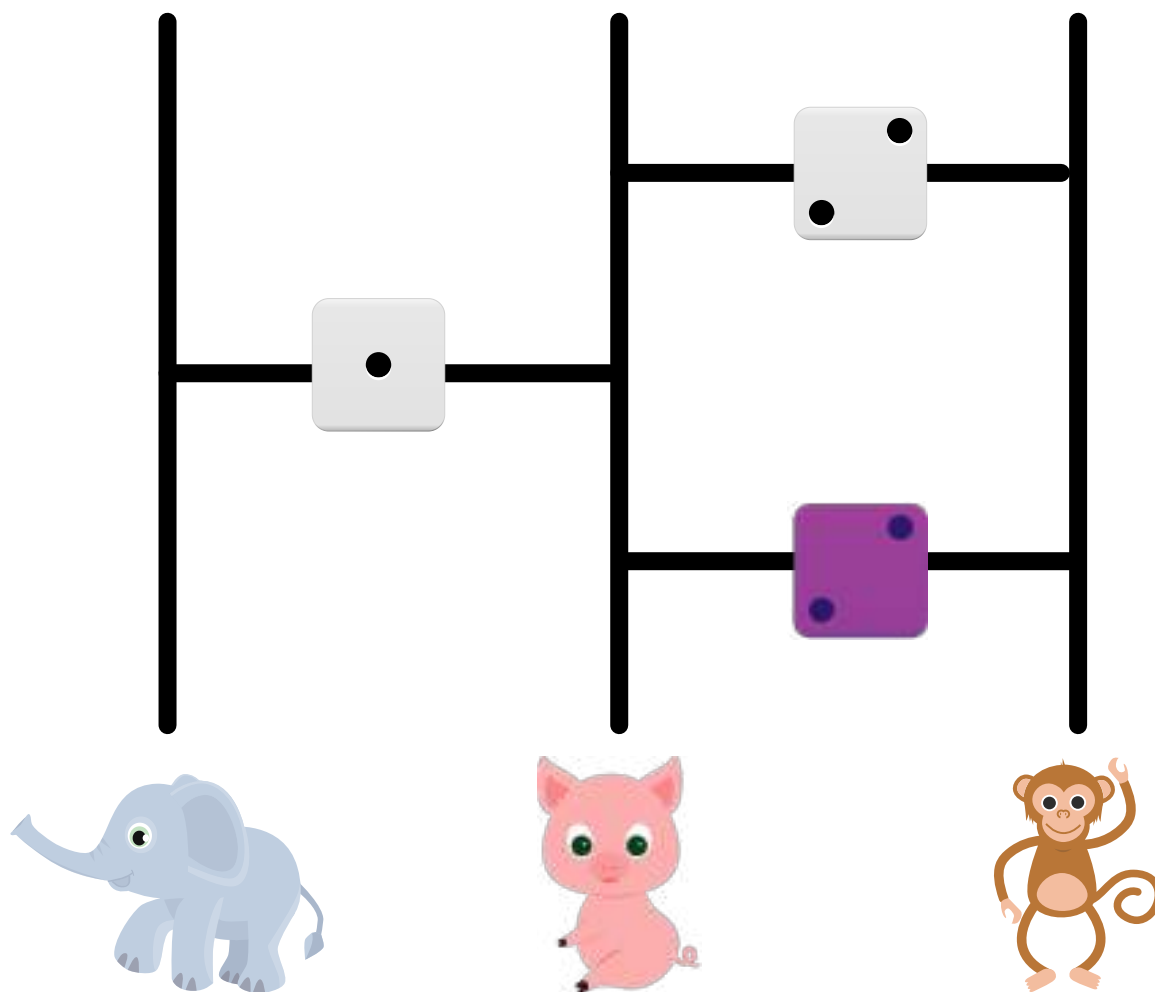


②



③



# 【あみだくじ】









## 【位置移動】

①


	←	→	→	↓	
↓	→	↑	←	↓	
→	↓	→	↑	→	
↓	→	↑	↓	←	
←	→	↓	←	→	
→	↓	→	↑	↓	

②

	→	←	→	↓	→
	←	→	↑	→	→
	→	↑	→	↓	→
	↑	→	↑	↓	→
	→	↑	→	↓	→
	↑	←	↓	→	→



## 【分ける】





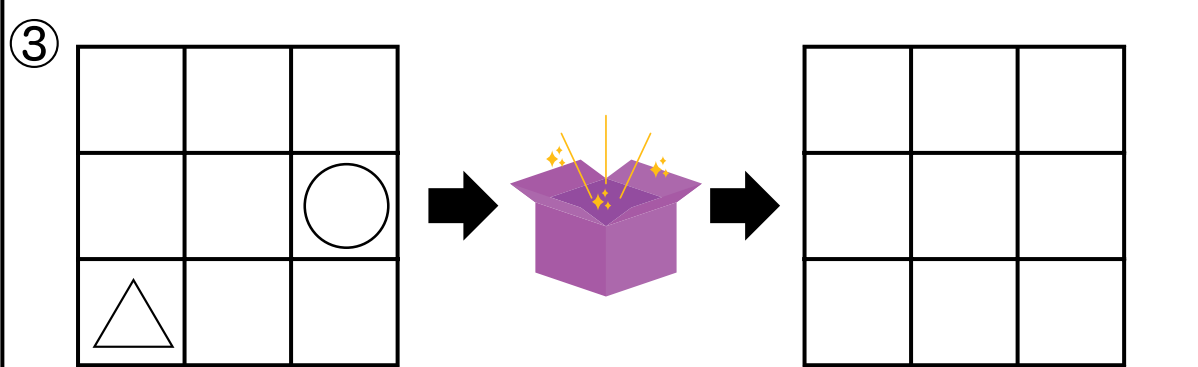
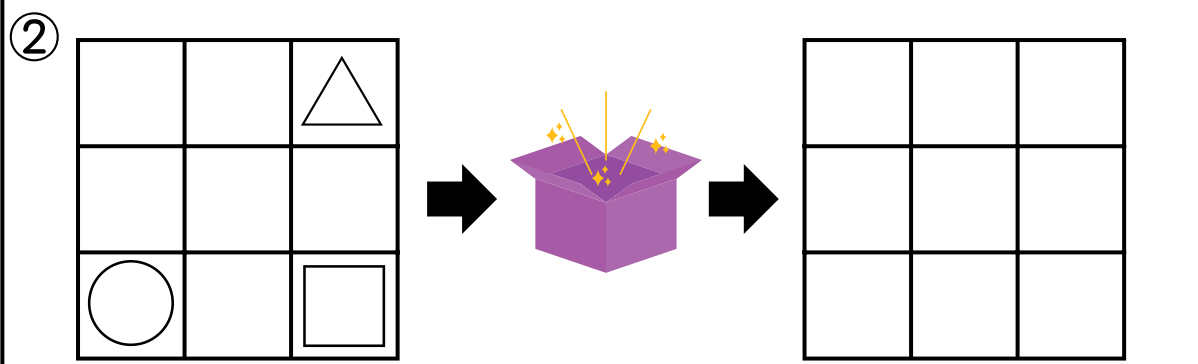
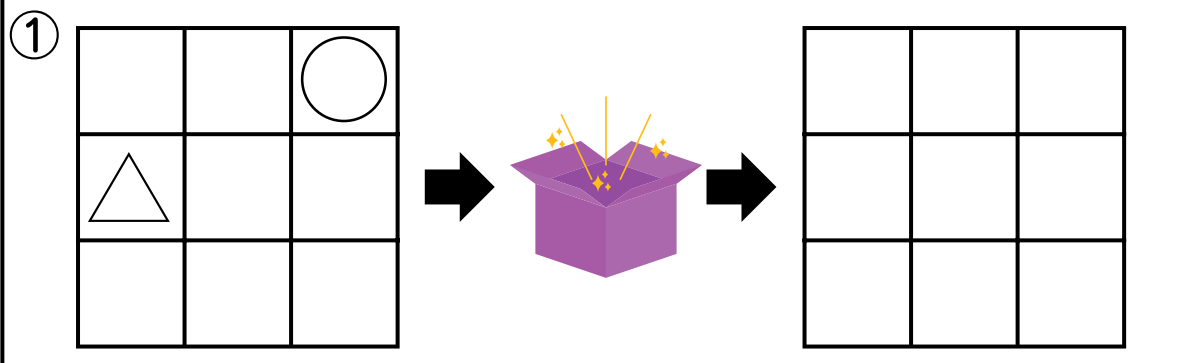
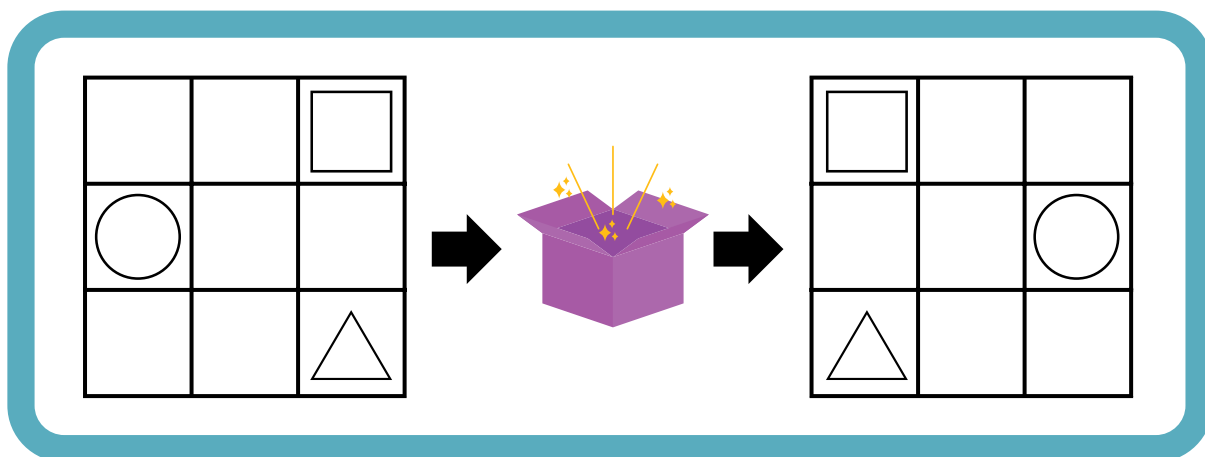



【増減】






# 【推理】



## ペーパーテスト

鉛筆を使います。

間違えた場合は、消しゴムで消します。

※ 訂正していると分かる場合には、×でもかまいません。

### 「ことば せいかつ」

- 【言語】 見本の絵の言葉と同じ音がつく絵に、○をつけましょう。
- 【しりとり】 しりとりをして3つの絵が全部つながるものには○、つながらないものには×をつけましょう。
- 【季節】 見本の絵の次の季節の絵に、○をつけましょう。
- 【聞き取り1】 ①キリンさんとゾウさんとチーターさんが歩いていました。横断歩道を渡ろうと思ったら、青信号がチカチカと点滅していました。キリンさんは「赤になる前に走って渡ろうよ！競争しよう！」と言いました。ゾウさんは「チカチカしているけど車が来てないからゆっくり歩いて渡ろうよ」と言いました。チーターさんは「チカチカしているから、渡らずに次の青信号まで待とうよ」と言いました。正しいことを言っているのは誰ですか。○をつけましょう。
- ②リスさんとウサギさんとネコさんが図書館で、走って遊んでいました。すると、ライオンさんに注意されました。リスさんは黙ってお父さんのところへ行きました。ウサギさんは「ごめんなさい」と言って、イスに座り静かに本を読みました。ネコさんは「騒いでいたのは私だけじゃないよ」と言いました。正しい行動をしたのは誰ですか？○をつけましょう。
- 【常識】 上の絵は、何からできていますか。下の絵と線でつなぎましょう。
- 【聞き取り2】 まりこちゃんが持っているバッグには2本の花と2匹のネコが書かれています。まりこちゃんの好きなハートのマークをお母さんが刺繍してくれました。まりこちゃんのバッグはどれですか。□に○をつけましょう。
- 【話の記憶】 まなぶくんはお友達と野球をする約束をしていましたが、朝から雨が降っているので、野球はできません。まなぶくんは少し悲しくなりましたが、野球をするかわりにお友達のお家で遊ぶことになりました。まなぶくんがお家を出るときは雨が降っていました。お友達のお家に着いてパズルをして遊びました。まなぶくんがお友達の家を出るころにはもう雨は止んでいました。
- 【問題】
- ①朝起きて、雨だったときのまなぶくんの顔に、○をつけましょう。
- ②まなぶくんは何を身につけて遊びに行きましたか。○をつけましょう。
- ③まなぶくんがお友達と遊んだものに○をつけましょう。

### 「かず かたち」

- 【数】 積木とリングで同じ数のものを、線でつなぎましょう。
- 【重さ比べ】 イヌとネコとブタが重さ比べをしました。重さは上の見本の通りになっています。下のように動物たちが重さ比べをしたとき、重い方の動物の□に○を書きましょう。
- 【あみだくじ】 ゾウ、ブタ、サルがイチゴを持っています。白いサイコロを通るとその目の数だけイチゴが増えます。紫のサイコロを通るとその目だけ数が減ります。ゴールに着いたとき、イチゴは何個になっていますか。その数だけ□に○を書きましょう。
- 【位置移動】 ①ウサギからスタートして矢印通りに進んだら、どの□にたどり着きますか。  
○をつけましょう。斜めには進めません。
- ②どこの□からスタートしたら、ウサギの所に着きますか。□に○をつけましょう。
- 【分ける】 アメを3人で分けると、1人は何個もらえますか。○を書きましょう。
- 【増減】 子どもが6人公園で遊んでいました。後から5人やってきましたが、3人帰りました。今、公園に何人の子供がいますか。
- 【推理】 見本の絵を箱の中に入れ、取り出すと右の絵のようになって出てきます。下の絵を同じように箱に入れて取り出します。出てきた絵の印を右に書きましょう。



# 【解答】

<p>【音図】</p>	<p>【しりとり】</p>	<p>【季節】</p>
<p>【聞き取り1】</p> <p>【音図】</p>	<p>【聞き取り2】</p>	<p>【話の記憶】</p>
<p>【数】</p>	<p>【重さ比べ】</p>	<p>【あみだくじ】</p>
<p>【位置移動】</p>	<p>【分ける】</p>	<p>【増減】</p>
<p>【推理】</p>		

