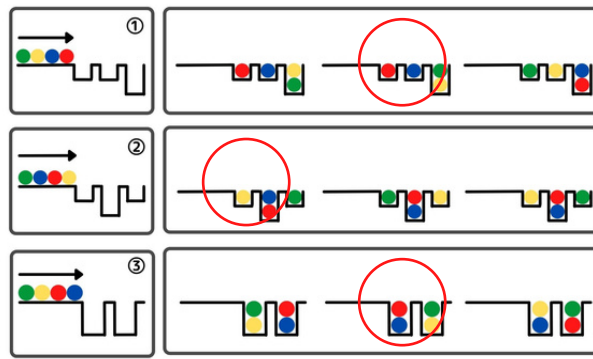
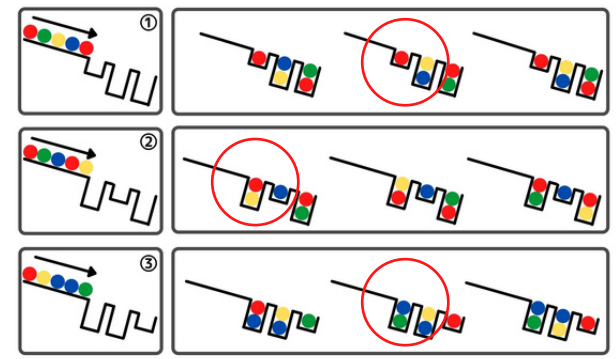


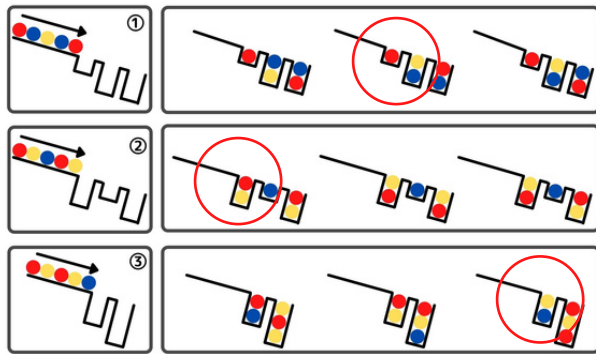
→の方向にボールが転がります。それぞれの穴にはどのようにボールが入るでしょうか。  
正しいものを選んで○をしましょう。



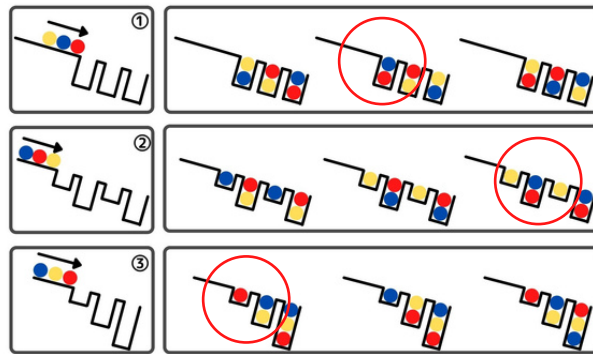
→の方向にボールが転がります。それぞれの穴にはどのようにボールが入るでしょうか。  
正しいものを選んで○をしましょう。



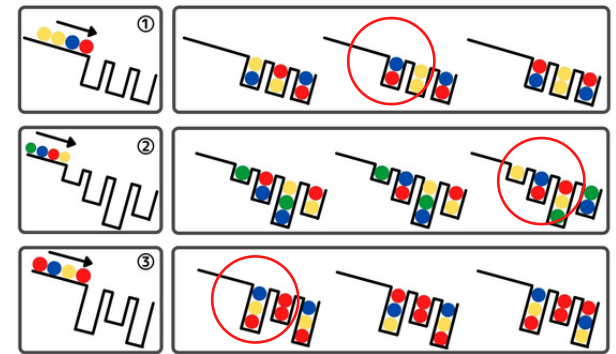
→の方向にボールが転がります。それぞれの穴にはどのようにボールが入るでしょうか。  
正しいものを選んで○をしましょう。



→の方向にボールが転がります。それぞれの穴にはどのようにボールが入るでしょうか。  
正しいものを選んで○をしましょう。



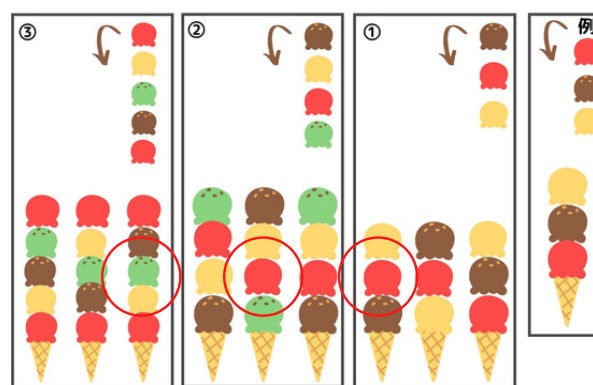
繰り返し順に→の方向にボールが転がります。それぞれの穴にはどのようにボールが入るでしょうか。  
正しいものを選んで○をしましょう。



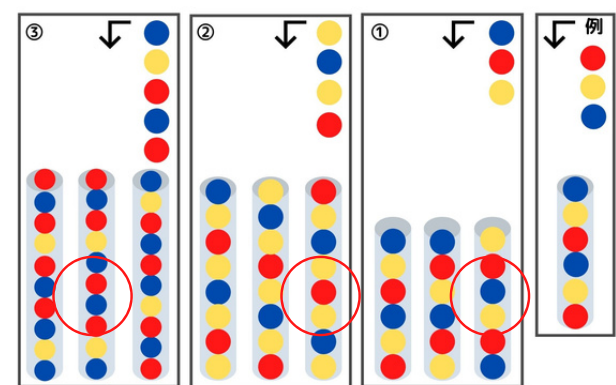
繰り返し順に→の方向にボールが転がります。それぞれの穴にはどのようにボールが入るでしょうか。  
正しいものを選んで○をしましょう。



①～③について → の方向にクッキーを箱に入れていきます。  
上の例のようにクッキーが箱に入るとすると、それぞれどのようにクッキーが入るでしょうか。  
正しいものを選んで○をしましょう。



①～③について → の方向にアイスをのせていきます。  
右側の例のようにアイスができるなると、それぞれどのようなアイスになるでしょうか。  
正しいものを選んで○をしましょう。



①～③について → の方向にボールが順番に筒に入ります。  
右側の例のようにボールが入るとすると、それぞれどのようなになるでしょうか。  
正しいものを選んで○をしましょう。

