



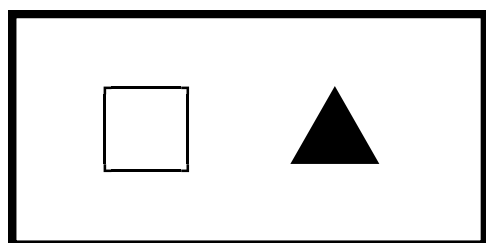
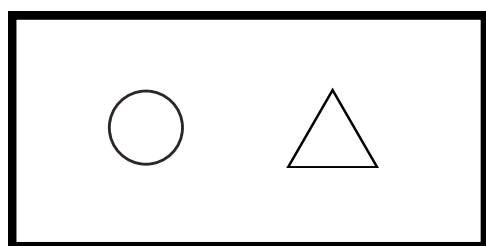
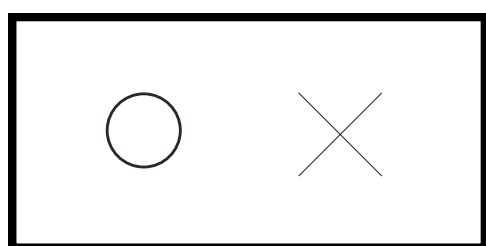
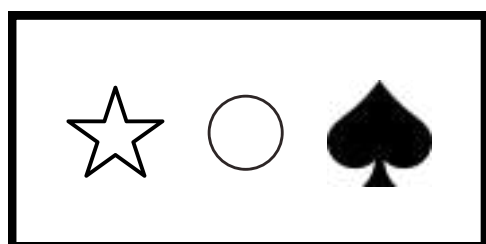
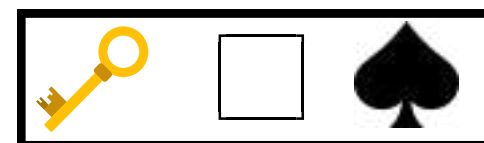
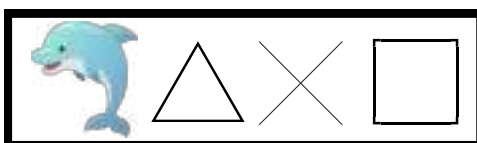
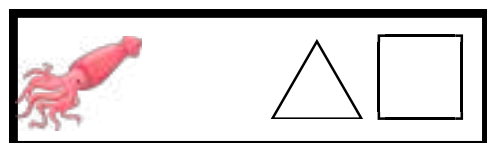

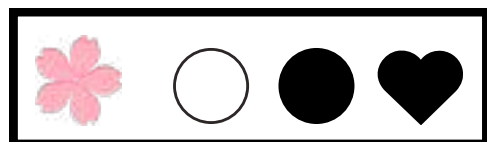


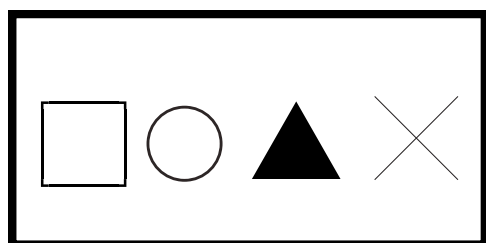

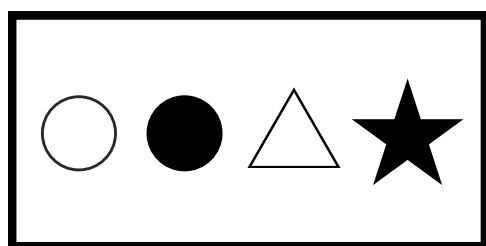




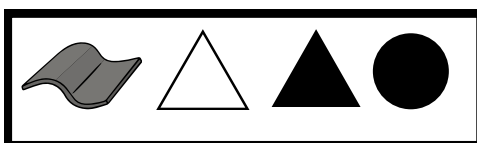

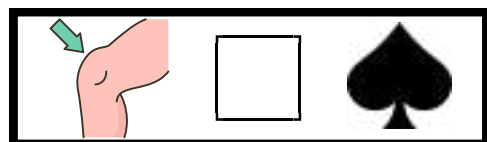
上のように言葉が形に置き換えられています。

左の形は右の絵のどれになりますか？線で結びましょう。





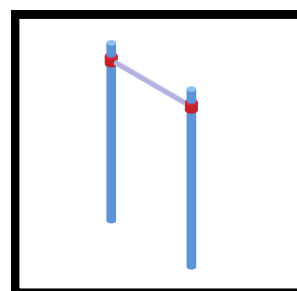
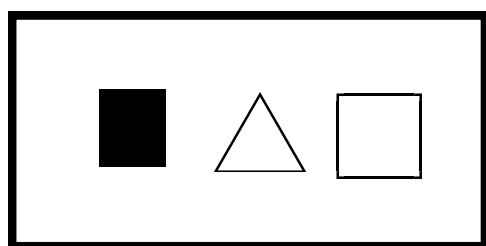


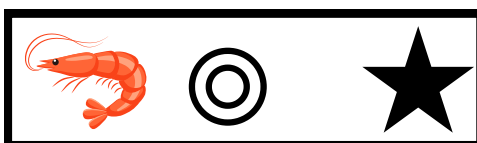
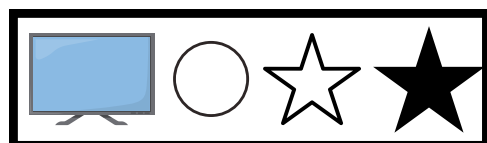

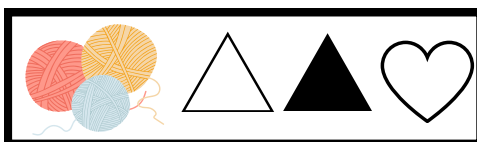
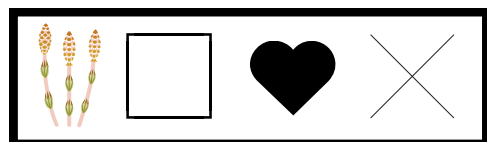
上のように言葉が形に置き換えられています。

左の形は右の絵のどれになりますか？線で繋ぎましょう。



上のように言葉が形に置き換えられています。

左の形は右の絵のどれになりますか？線で結びましょう。



上のように言葉が形に置き換えられています。

□の言葉に当てはまるイラストはどれでしょうか。

下のイラストの中から選んで○で囲みましょう。



= ◆ ◆ △ #



= □ ♠



= ♣ ◇



= ☆ △ ▽ △



= ◇ # ♥ ■



= ▲ ♣ ○ ◎




上のように言葉が形に置き換えられています。
 ■の言葉に当てはまるイラストはどれでしょうか。
 下のイラストの中から選んで○で囲みましょう。



= # ☆ △ ▼ ○



= ♥ ✕



= ♣ ■ ▲



= ○ ▼ ♥ □



= ◇ ◎ ◆



= △ ○ #

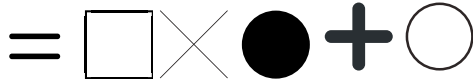
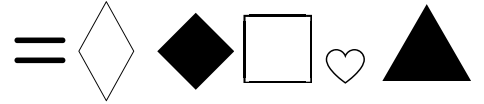
◆ ○ △ ○ ♥ ◆ ■



上のように言葉が形に置き換えられています。






□の言葉に当てはまるイラストはどれでしょうか。

下のイラストの中から選んで○で囲みましょう。



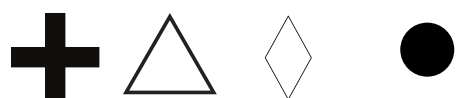
上のように数字が形に置き換えられています。

左の形は右の数のどれになりますか？線で結びましょう。

1	2	3	4	5
				



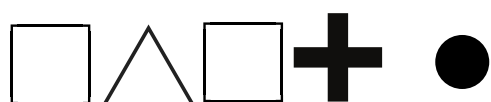
● 4 3 5 1



● 4 2 5








● 1 2 3

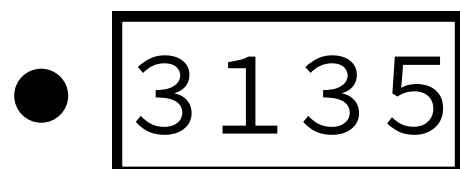
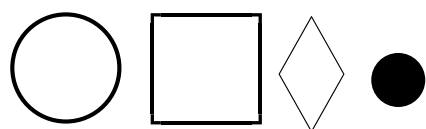
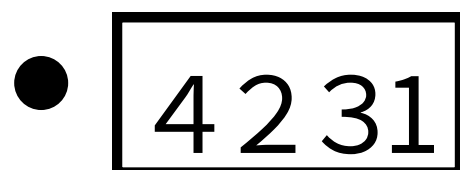

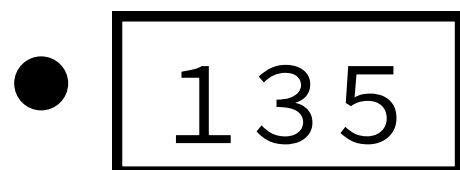
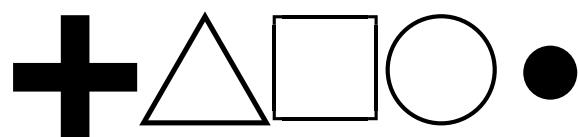
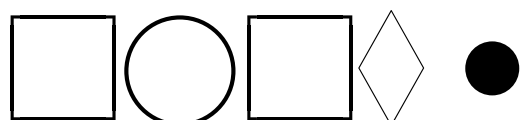


● 3 2 3 4

上のように数字が形に置き換えられています。








左の形は右の数のどれになりますか？線で結びましょう。

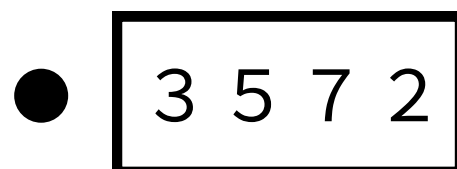
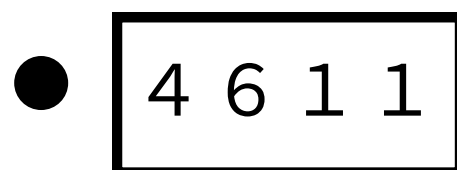
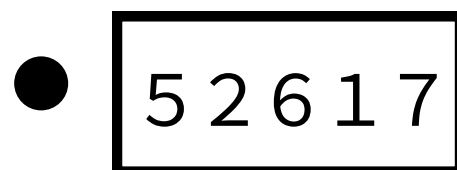
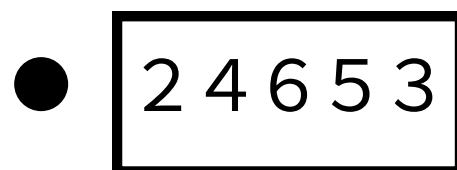
1	2	3	4	5
				



上のように数字が形に置き換えられています。

左の形は右の数のどれになりますか？線で結びましょう。

1	2	3	4	5	6	7
						



上のように言葉が形に置き換えられています。
左の形は右の絵のどれになりますか？線で繋ぎましょう。

さくら めがね うし
 いか いるか かぎ
 さい かめ さる うさぎ

上のように言葉が形に置き換えられています。
左の形は右の絵のどれになりますか？線で繋ぎましょう。

ひざ らくだ くすり
 まくら かわら テニス
 ひまわり マラカス カステラ ますく

上のように言葉が形に置き換えられています。
左の形は右の絵のどれになりますか？線で繋ぎましょう。

つくし けいと バナナ
 テレビ えび ぼうし
 てつぼう つくえ バイク バケツ

上のように言葉が形に置き換えられています。
□の言葉に当てはまるイラストはどれでしょうか。
下のイラストの中から選んで□で囲みましょう。

ききゅう かま
 いど ちりとり
 どうくつ けいさつ
 きゅうきゅうしゃ かいちゅうどけい
 いそぎんちやく くじゃく かたつむり

上のように言葉が形に置き換えられています。
□の言葉に当てはまるイラストはどれでしょうか。
下のイラストの中から選んで□で囲みましょう。

くるまいす つぼ
 ゴーヤ すいせん
 そうり ますく
 となかい ゆきだるま
 サンタクロース クリスマスリース
 クリスマスツリー

上のように言葉が形に置き換えられています。
□の言葉に当てはまるイラストはどれでしょうか。
下のイラストの中から選んで□で囲みましょう。

どんぐり ルーレット
 れいそうこ つみき
 ドライヤー ふうせん
 プリン
 グレープフルーツ しょうぼうしゃ
 トランペット パイナップル
 ドリアン

上のように数字が形に置き換えられています。
左の形は右の数のどれになりますか？線で繋ぎましょう。

1 2 3 4 5
 4351
 425
 123
 3234

上のように数字が形に置き換えられています。
左の形は右の数のどれになりますか？線で繋ぎましょう。

1 2 3 4 5
 345
 135
 4231
 3135

上のように数字が形に置き換えられています。
左の形は右の数のどれになりますか？線で繋ぎましょう。

1 2 3 4 5 6 7
 24653
 52617
 4611
 3572